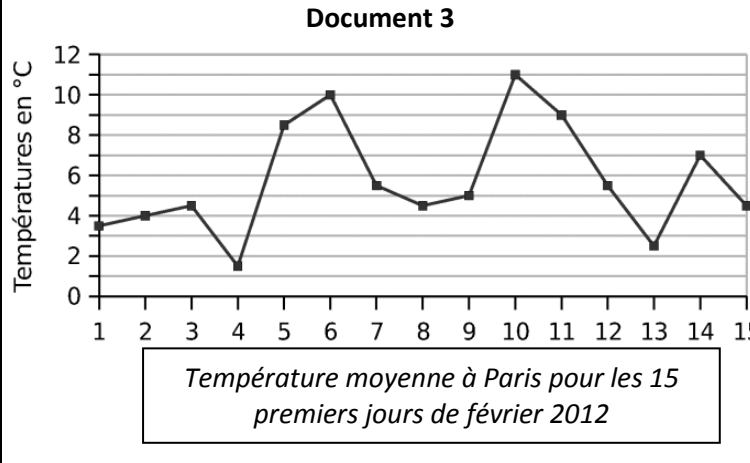
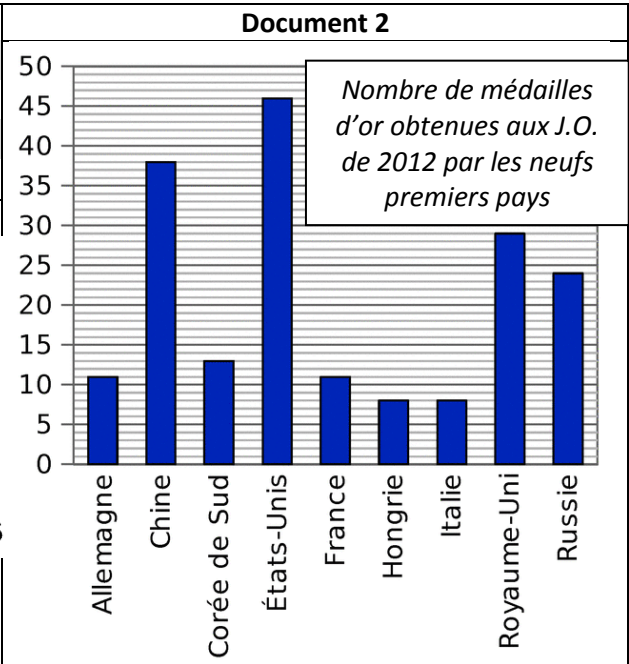


# TEST sur la Leçon A – 2<sup>ème</sup> Chance

Calcule ta note grâce à ta grille collée dans ton cahier

Répartition de la population française en 2008 (en million)	Document 1	Ensemble	Hommes	Femmes
	Population totale	61,9	30,1	31,8
	Moins de 20 ans	15,2	7,8	7,4
	De 20 à 64 ans	?	18,1	18,4
65 ans ou plus	10,2	4,2	6	



**Exercice 1 :** à partir du **document 1**, réponds aux questions suivantes : A1 ☹️ 😐 😊 😄

- Combien d'hommes ont moins de 20 ans ? .....
- Combien d'habitants comptait la France ? .....
- Que représente le nombre 6 ? .....

**Exercice 2 :** à partir du **document 1**, réponds aux questions suivantes : A2 ☹️ 😐 😊 😄

- Combien d'hommes ont plus de 20 ans ? .....
- Quel sexe est le plus représenté au-delà de 65 ans ? .....
- Calcule le nombre de personnes ayant entre 20 et 64 ans : .....

**Exercice 3 :** à partir des **document 2 et 3**, réponds aux questions suivantes : A3 ☹️ 😐 😊 😄

- Combien de médailles d'or a remporté la France ? .....
- Quels sont les 3 pays à avoir remporté le plus de médailles d'or ? .....
- Quelle était la température le 6 février à Paris ? .....
- Quel jour la température était la plus élevée à Paris ? .....
- Pendant combien de jours la température a-t-elle dépassé les 8°C ? .....

**Exercice 4 :** A4 ☹️ 😐 😊 😄

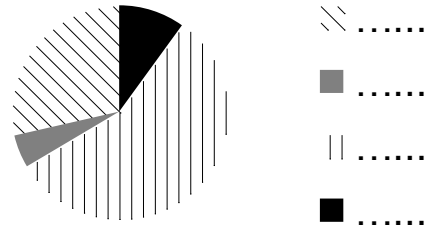
On a demandé à un groupe de 12 enfants leur sport préféré. Voici leurs réponses : football – tennis – aucun – natation – tennis – football – aucun – football – football – tennis – aucun – football. Complète le tableau ci-contre :

Sport préféré					TOTAL
Nombres d'enfants					

**Exercice 5 :** A5 ☹️ 😐 😊 😄

Couverture du sol en France en 2008 (en %) :

Forêt	Lande	Terres agricoles	Autres
28,6	5	56,5	9,9



A partir de ce tableau, complète la légende du diagramme :

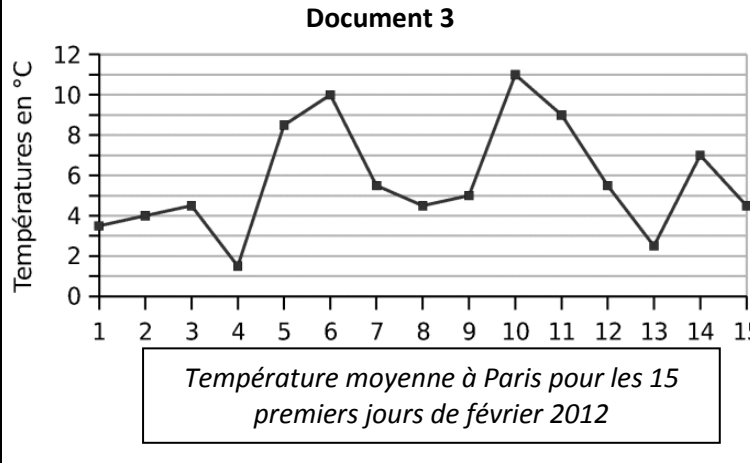
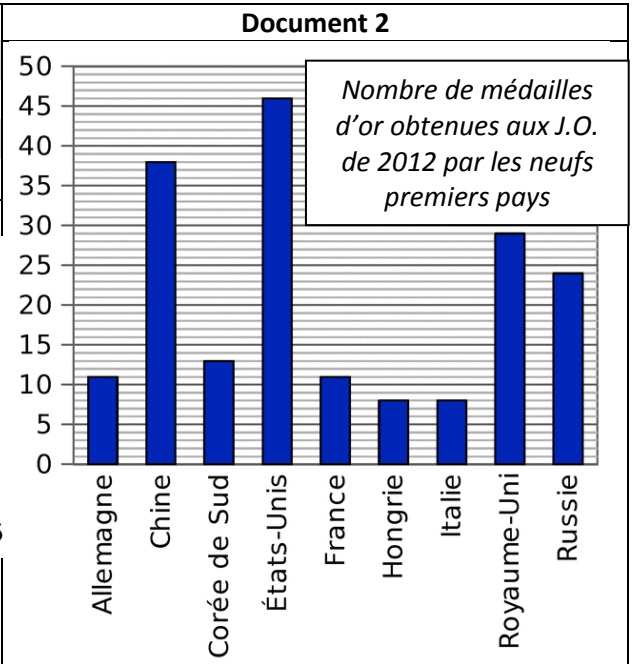
6<sup>ème</sup> ...

NOM Prénom : .....

# CORRECTION - TEST Leçon A – 2<sup>ème</sup> Chance

Calcule ta note grâce à ta grille collée dans ton cahier

Répartition de la population française en 2008 (en million)	Document 1	Ensemble	Hommes	Femmes
	Population totale	61,9	30,1	31,8
	Moins de 20 ans	15,2	7,8	7,4
	De 20 à 64 ans	?	18,1	18,4
65 ans ou plus	10,2	4,2	6	



**Exercice 1 :** à partir du **document 1**, réponds aux questions suivantes :

A1 ☹️ 😐 😊 😄

- Combien d'hommes ont moins de 20 ans ? **7,8 millions**
- Combien d'habitant comptait la France ? **61,9 millions**
- Que représente le nombre 6 ? **6 millions de femmes ont 65 ans ou plus**

**Exercice 2 :** à partir du **document 1**, réponds aux questions suivantes :

A2 ☹️ 😐 😊 😄

- Combien d'hommes ont plus de 20 ans ? **22,3 millions**
- Quel sexe est le plus représenté au-delà de 65 ans ? **Les femmes**
- Calcule le nombre de personnes ayant entre 20 et 64 ans : **36,5 millions (18,1 + 18,4 ou 61,9 – 15,2 – 10,2)**

**Exercice 3 :** à partir des **document 2 et 3**, réponds aux questions suivantes :

A3 ☹️ 😐 😊 😄

- Combien de médailles d'or a remporté la France ? **11**
- Quels sont les 3 pays à avoir remporté le plus de médailles d'or ? **États-Unis – Chine et Royaume-Uni**
- Quelle était la température le 6 février à Paris ? **10°C**
- Quel jour la température était la plus élevée à Paris ? **Le 10 février**
- Pendant combien de jours la température a-t-elle dépassé les 8°C ? **Pendant 4 jours**

**Exercice 4 :**

A4 ☹️ 😐 😊 😄

On a demandé à un groupe de 12 enfants leur sport préféré. Voici leurs réponses : football – tennis – aucun – natation – tennis – football – aucun – football – football – tennis – aucun – football. Complète le tableau ci-contre :

Sport préféré	football	tennis	natation	Aucun	TOTAL
Nombres d'enfants	5	3	1	3	12

**Exercice 5 :**

A5 ☹️ 😐 😊 😄

Couverture du sol en France en 2008 (en %) :

Forêt	Lande	Terres agricoles	Autres
28,6	5	56,5	9,9



- ☞ Forêt
- Lande
- ▨ Terres agricoles
- Autre

A partir de ce tableau, complète la légende du diagramme :