



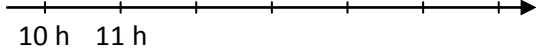


Léo veut aller de Paris à Biarritz en train. Il consulte les horaires sur Internet.

**PARIS > BIARRITZ**

Train	Départ		Arrivée
	<b>10 h 10</b>	Direct	<b>15 h 06</b>
	<b>10 h 50</b>	PARIS MONTPARNASSE	BORDEAUX-ST-JEAN <b>14 h 23</b>
	<b>14 h 29</b>	BORDEAUX-ST-JEAN	BIARRITZ <b>16 h 19</b>
	<b>13 h 10</b>	Direct	<b>18 h 13</b>

- Le premier train part à 10 h 10 de Paris.
  - A quelle heure arrive-t-il à Biarritz ?
  - Complète le graphique en plaçant à peu près les horaires de départ et d'arrivée du train.
 
  - Calculer la durée du trajet en s'aidant du graphique.
- Quels sont les autres horaires de départ possibles de Paris ? Les horaires d'arrivée à Biarritz ? Les durées des trajets ?
- Un train part de Paris à 18 h 25 et met 4 h 54 min pour arriver à Biarritz. A quelle heure arrive-t-il à Biarritz ?